

# МАТЕМАТИКА

2 класс

## Математическое путешествие

Выполнила учитель нач. классов МБОУ «Мгинская СОШ»  
Васьянова Н.В.



# Кругосветное путешествие



# Остров Попугаев




3	★	4	★	6 = 2
4	★	3	★	6 = 2
63	★	7	★	2 = 18





# Остров Обезьян



$$2 \text{ м} > 16 \text{ дм}$$

$$52 \text{ л} > 25 \text{ л}$$

$$30 \text{ см} = 3 \text{ дм}$$


$$30 \text{ кг} > 3 \text{ кг}$$

$$1 \text{ ч} < 10 \text{ ч}$$





# Остров Слонов



$$X+30=50$$

$$X=50-30$$

$$X=20$$

$$20+30=50$$

0







# Остров Дикарей

$$3 * 4 = 12 \text{ (к.)}$$

**Ответ: 12 кокосов.**



В начале прогулки дикари нашли 3 кокоса, А к концу прогулки число кокосов увеличилось в 4 раза. Сколько кокосов нашли дикари?

За 5 одинаковых амулетов дикари  
заплатили 20 монет. Сколько  
монет надо заплатить за 8  
таких амулетов?

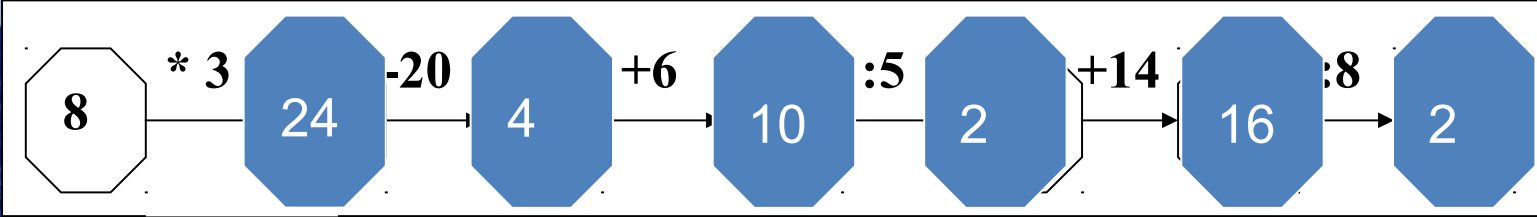
1)  $20:5=4(\text{м})$ -за один амулет

2)  $4*8=32(\text{м})$

Ответ: 32 монеты за восемь  
амулетов.







# Остров Робинзона



Лейла









До новых  
встреч!

